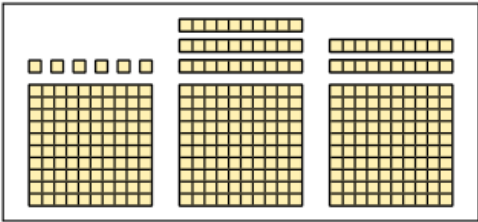


**En utilisant un tableau :**

**1** Colorie tout ce qui fait 356.



365      3c 5d      6c 5d 3u



35d 6u      356u

3c 5d 6u      3c 56u

**2** Colorie tout ce qui fait 7 centaines et 4 unités.

7c 4u      70d 4u

704      740





470      407

4c 7u

**3** Écris les nombres en chiffres.

5 centaines, 4 dizaines et 3 unités: **543**



8 centaines, 2 dizaines et 7 unités: .....

6 centaines et 9 dizaines: .....      83 dizaines: .....

4 centaines et 5 unités: .....      7 centaines et 39 unités: .....


25 dizaines et 4 unités: .....      34 dizaines et 1 unité: .....


Complète.


4

1 centaine, c'est ..... dizaines.	1 centaine, c'est ..... unités.
4 centaines, c'est ..... dizaines.	5 centaines, c'est ..... unités.
9 centaines, c'est ..... dizaines.	8 centaines, c'est ..... unités.

1 - Entoure tout ce qui fait 803.

8c 0d 3u            380      80 dizaines et 3 unités

8c 3u            803      1c 73u      803u      3u 0d 8c      8c 3d 0u

8c 3d      3u 8c            8 centaines 3 unités

80d 3u      8c 3d      8 centaines 3 unités

2 - Écris les nombres en chiffres.

5 centaines, 6 dizaines et 4 unités → 564

83 dizaines et 9 unités → .....      79 dizaines et 5 unités → .....

951 unités → .....      7 unités, 6 centaines 5 dizaines → .....

6 centaines et 4 unités → .....      70 dizaines et 9 unités → .....

5 centaines et 9 dizaines → .....      4 centaines et 7 unités → .....

8 unités, 5 dizaines et 3 centaines → .....